

Colegio: _____

Comuna: _____

Región: _____

Unidad N°1: “El cuerpo Humano”


Curso: 2° Año Básico

Clase: 1

Actividad Diagnóstica

“Partes principales del cuerpo humano”

Identifica las partes del cuerpo



Partes del cuerpo

Colegio: _____

Comuna: _____

Región: _____

Unidad N°1: “El cuerpo Humano”

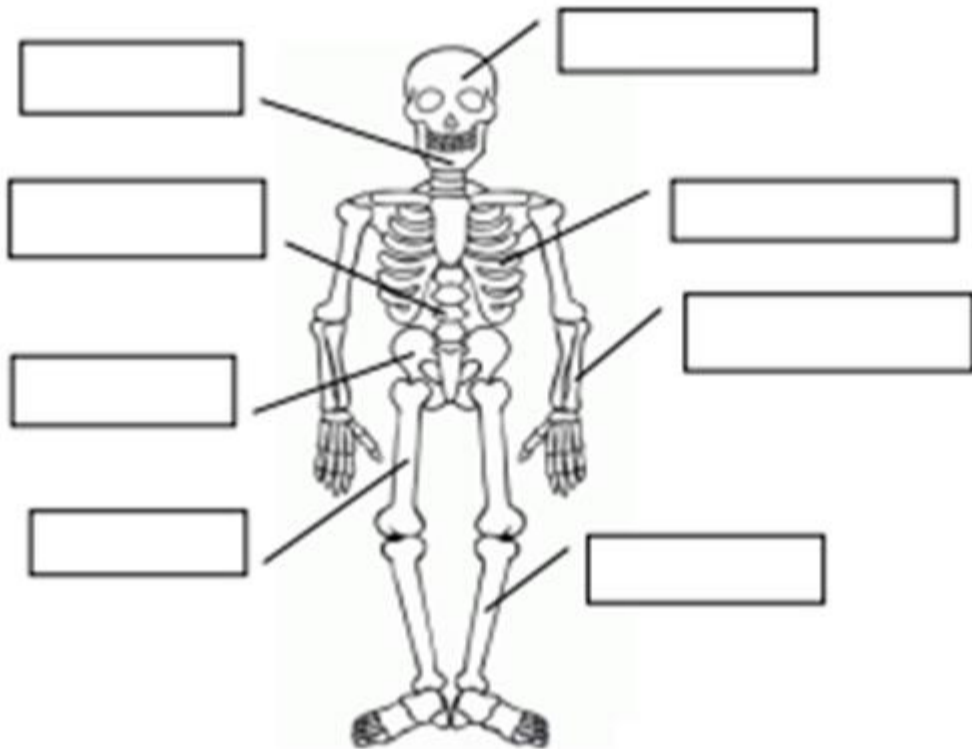
Curso: 2° Año Básico

Clase: 2



Escribe el nombre de cada hueso que aparece a continuación en el lugar donde se ubica:

**Cráneo - Fémur - Columna Vertebral - Mandíbula - Tibia -
Radio - Costillas**



Busca el nombre de cada articulación y luego escríbela en el lugar donde se ubica:



Colegio: _____

Comuna: _____

Región: _____

Unidad N°1: “El cuerpo Humano”

Curso: 2° Año Básico

Clase: 5

Ficha de Observación



Dibuja lo que observaste.



Describe lo que observaste. ¿Qué pasa cuando tiras del tendón?

Colegio: _____

Comuna: _____

Región: _____

Unidad N°1: “El cuerpo Humano”

Curso: 2° Año Básico

Clase: 7

Actividad: “Recorrido del alimento”

Dibuja el recorrido de la manzana a través de este niño:



Actividad: “Partes del sistema digestivo”

Escribe las partes del sistema digestivo al lado de la línea que corresponde:

**Boca - Esófago - Estómago - Intestino Delgado - Intestino
Grueso - Recto - Ano**



Colegio: _____

Comuna: _____

Región: _____

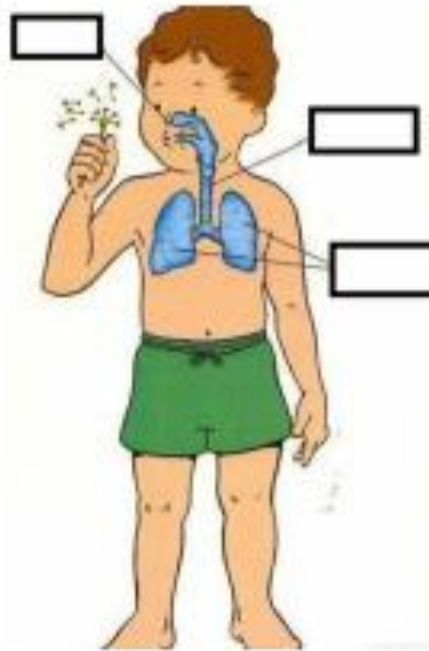
Unidad N°1: “El cuerpo Humano”

Curso: 2° Año Básico

Clase: 8

Guía de aprendizaje “La respiración”

1.- Rellena en los espacios con las partes del sistema respiratorio.



2.- Dibuja los pulmones



Colegio: _____

Comuna: _____

Región: _____

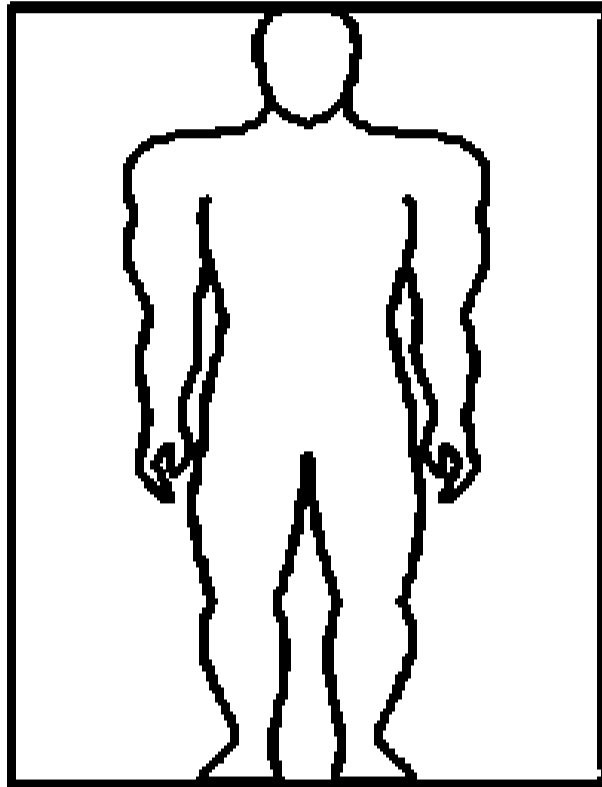
Unidad N°1: “El cuerpo Humano”

Curso: 2° Año Básico

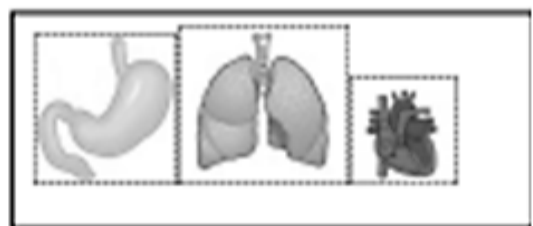
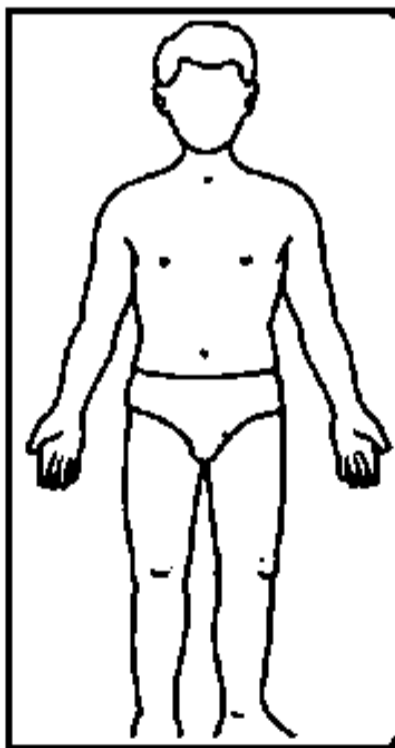
Clase: 9

LA CIRCULACIÓN

1.- Dibuja en esta persona el corazón y los vasos sanguíneos. Usa los colores rojo y azul para diferenciar la sangre con oxígeno y la que tiene dióxido de carbono.



2.- Recorta la figura del niño y los órganos que aparecen al lado. Pégalos en tu cuaderno y señala sus nombres:



Colegio: _____

Comuna: _____

Región: _____

Unidad N°1: “El cuerpo Humano”

Curso: 2° Año Básico

Clase: 10

Sigue las instrucciones de tu profesor(a), toma tu pulso, cuenta los latidos y regístralo en la tabla:

Momento	Pulso	
	30 segundos	1 minuto
En reposo		
Después de hacer ejercicio		

Con los datos que obtuviste, construye un gráfico:



Colegio: _____

Comuna: _____

Región: _____

Unidad N°1: “El cuerpo Humano”

Curso: 2° Año Básico

Clase: 11

“Ejercitando”

1.- Dibuja debajo de cada figura, el músculo o parte del cuerpo que estás ejercitando:



--	--	--

2.- Recorta las imágenes donde se realiza alguna actividad física y pégalas en tu cuaderno. Escribe debajo de cada una de qué actividad se trata.

